

**Промежуточная аттестация (итоговый контроль) по истории  
КИМ 10 класс, профильный уровень  
1 вариант**

**1. Кого из названных лиц русские князья считали родоначальником своей династии?**

- 1) Аскольда
- 2) Дира
- 3) Рюрика
- 4) Олега

**2. Волхвами в Древней Руси называли**

- 1) обедневших крестьян-общинников
- 2) глав крупных зажиточных семей
- 3) первых священнослужителей в христианских храмах
- 4) жрецов языческих культов, знахарей

**3. Какое литературное произведение из названных принадлежит Владимиру Мономаху?**

- 1) «Апостол»
- 2) «Поучение детям»
- 3) «Задонщина»
- 4) «Русская Правда»

**4. Какое из перечисленных событий относится к XIII в.?**

- 1) битва на р. Воже
- 2) поход новгород-северского князя Игоря против половцев
- 3) битва на р. Калке
- 4) разгром печенегов Ярославом Мудрым у Киева

**5. Какое из перечисленных событий произошло позже других?**

- 1) битва на р. Калке
- 2) объединение Киева и Новгорода под единой княжеской властью
- 3) первое упоминание Москвы в летописи
- 4) съезд князей в Любече

**6. Какие из перечисленных дат относятся к монголо-татарскому нашествию на Русь?**

- 1) 882-980 гг.
- 2) 980-1025 гг.
- 3) 1113-1125 гг.
- 4) 1237-1240 гг.

**7. Кто стоял во главе русских войск, одержавших победу на льду Чудского озера?**

- 1) Дмитрий Донской
- 2) Александр Невский
- 3) Святослав Игоревич
- 4) Иван Калита

**8. Современником Василия Второго был**

- 1) Андрей Курбский
- 2) Дмитрий Шемяка
- 3) Иван Фёдоров
- 4) Алексей Адашев

**9. Кто из московских князей первым получил право сбора дани в пользу Орды со всех русских земель?**

- 1) Юрий Долгорукий
- 2) Иван Калита
- 3) Василий II Тёмный
- 4) Андрей Боголюбский

**10. Какое из указанных событий произошло в XV в.?**

- 1) принятие первого общерусского Судебника
- 2) учреждение рекрутчины
- 3) перенос в Москву резиденции митрополита

4) учреждение стрелецкого войска

**11. Что явилось последствием ордынского владычества?**

- 1) вхождение русских княжеств в состав Золотой Орды
- 2) распад Древнерусского государства на княжества и земли
- 3) упадок торгового пути «из варяг в греки»
- 4) изменение характера княжеской власти

**12. Наступивший в 30-е гг. XII в. политический распад Древнерусского государства привёл к**

- 1) расколу Русской православной церкви
- 2) возрождению полюдья как способа сбора дани киевским князем с подвластных земель
- 3) снижению обороноспособности русских земель
- 4) призыванию варягов для управления русскими землями

**13. Что из указанного относится к предпосылкам возвышения Москвы в XIV—XV вв.?**

- 1) независимость от Золотой Орды
- 2) отсутствие сильных соперников в борьбе за первенство
- 3) поддержка Москвы Ливонским орденом
- 4) дальновидная политика московских князей

**14. Исход борьбы между Москвой и Тверью за общерусское первенство решился в пользу Москвы, так как**

- 1) московские князья оказались более ловкими и дальновидными политиками
- 2) территория Московского княжества в отличие от Тверского была хорошо защищена от нападений
- 3) Московское княжество было освобождено от уплаты дани Золотой Орде
- 4) Тверь была ослаблена борьбой с великим княжеством Литовским

**15. Какой из названных памятников был построен в XII в.?**

- 1) церковь Покрова на Нерли
- 2) Успенский собор Московского Кремля
- 3) храм Василия Блаженного
- 4) церковь Вознесения в селе Коломенском

**16. Прочтите отрывок из документа и укажите, о каком князе идёт речь.**

«Узнав о набеге печенегов, он спешил из Новгорода в южную Россию и сразился с варварами под стенами Киева... Князь одержал победу... В память сего знаменитого торжества Великий князь заложил на месте сражения великолепную церковь и, распространив Киев, обвёл его каменными стенами... он назвал их главные врата Золотыми, а новую церковь Святою Софией...»

- 1) Александре Невском
- 2) Дмитрии Донском
- 3) Ярославе Мудром
- 4) Иване Калите

**17. Прочтите отрывок из исторического источника и укажите событие, о котором идёт речь.**

«И начал тогда князь великий наступать. Гремят мечи булатные о шлемы хиновские. Поганые прикрыли головы свои руками своими. И вот поганые бросились вспять. Ветер рвёт в стягах великого князя Дмитрия Ивановича, поганые спасаются бегством, а русские сыновья широкие поля кликом огородили и золочёными доспехами осветили. Уже встал тур на бой! Тогда князь великий Дмитрий Иванович и брат его, князь Владимир Андреевич, полки поганых вспять повернули и начали их бить и сечь беспощадно, тоску на них наводя...»

- 1) Ледовое побоище
- 2) Куликовская битва
- 3) стояние на реке Угре
- 4) битва на реке Калке

**18. Выберите из списка три исторические личности, связанные с княжением Ивана III. Запишите номера, под которыми они указаны, в ответ.**

- 1) хан Ахмат
- 2) хан Тохтамыш

- 3) Сергей Радонежский
- 4) Иосиф Волоцкий
- 5) Софья Палеолог
- 6) Елена Глинская

**19. Установите соответствие между именами князей Древней Руси и прозваниями, закрепившимися за ними в истории.**

ИМЕНА

- А) Владимир
- Б) Святополк
- В) Ярослав
- Г) Олег

ПРОЗВАНИЯ

- 1) Окаянный
- 2) Мудрый
- 3) Красное Солнышко
- 4) Вещий
- 5) Тишайший

Запишите в таблицу цифры, расположив их в порядке, соответствующем буквам:

А	Б	В	Г

**20. Ниже приведён перечень терминов. Все они, за исключением одного, относятся к событиям (явлениям) VIII—XII вв.**

- 1) рядовичи
- 2) волхвы
- 3) погосты
- 4) закупы
- 5) полюдьё
- 6) пожилое

Найдите и запишите порядковый номер термина, относящегося к другому историческому периоду.

**21. Напишите пропущенное слово (термин).**

Сборник законов, принятый в XV в. и сыгравший большую роль в централизации Российского государства и создании системы общерусского права назывался \_\_\_\_\_.

**22. Заполните пустые ячейки таблицы, используя представленные в приведённом ниже списке данные. Для каждой ячейки, обозначенной буквами, выберите номер нужного элемента.**

Событие	Роль (значение) события в истории	Участник события
Битва на реке Калке	_____ (А)	Даниил Галицкий
_____ (Б)	Ослабление агрессии крестоносцев	_____ (В)
_____ (Г)	Первый шаг к ликвидации независимости Новгородской республики	Иван III
«Стояние» на реке Угре	_____ (Д)	_____ (Е)

**Пропущенные элементы:**

- 1) Иван Калита
- 2) Александр Невский
- 3) освобождение от ордынского владычества

- 4) прекращение набегов печенегов
- 5) Куликовская битва
- 6) первое столкновение с монголами
- 7) Иван III
- 8) Ледовое побоище
- 9) битва на реке Шелони

**Запишите в ответ цифры, расположив их в порядке, соответствующем буквам:**

А      Б      В      Г      Д      Е

### **23. Прочтите отрывок из «Повести о Шевкале»**

«В год 6834 (от Сотворения мира)...<...> Александру Михайловичу было дано княжение, и он пришел из Орды и сел на великокняжеский престол. Потом, немного дней спустя, из-за умножения наших грехов, когда бог позволил дьяволу вложить в сердце безбожных татар злую мысль, сказали они своему беззаконному царю: "Если не погубишь князя Александра и всех князей русских, то не получишь власти над ними". Тогда беззаконный и проклятый зачинатель всего зла Шевкал, разоритель христианства, отверз свои скверные уста и начал говорить, наученный дьяволом: "Государь царь, если ты мне велишь, я пойду на Русь, разорю христианство, убью их князя, а княгиню и детей приведу к тебе". И царь велел ему так сотворить. Беззаконный же Шевкал, разоритель христианства, пошел на Русь со многими татарами, и пришел в Тверь, и выгнал великого князя с его двора, а сам поселился на великокняжеском дворе, исполненный гордости и ярости. И сотворил великое гонение на христиан — насилие, грабеж, избиение и поругание. Люди же городские, постоянно оскорбляемые нехристями, много раз жаловались великому князю, прося оборонить их. Он же, видя озлобление своих людей и не имея возможности их оборонить, велел им терпеть. Но тверичи не терпели, а ждали удобного времени.

И случилось так, что 15 августа, ранним утром, когда собирается торг, некий диакоптверянин, — прозвище ему Дудко, — повел кобылицу, молодую и очень тучную, напоить водой к Волге. Татары же, увидев ее, отняли. Диакоп же очень огорчился и стал вопить: "Люди тверские, не выдавайте!" И началась между ними драка. Татары же, надеясь на свою власть, пустили в ход мечи, и тотчас сбежались люди, и началось возмущение. И ударили во все колокола, стали вечем, и восстал город, и сразу же собрался весь народ. И возник мятеж, и кликнули тверичи и стали избивать татар, где кого поймают, пока не убили самого Шевкала. Убивали же всех подряд, не оставили и вестника, кроме пастухов, пасших на поле стада коней. Те взяли лучших жеребцов и быстро бежали в Москву, а оттуда в Орду, и там возвестили о кончине Шевкала. (...) Убит же был Шевкал в 6835 году. И, услышав об этом, беззаконный царь зимой послал рать на Русскую землю — пять темников, а воевода у них Федорчук, и убили они множество людей, а иных взяли в плен; а Тверь и все тверские города предали огню. Великий же князь Александр, чтобы не терпеть безбожных преследований, оставив русский великокняжеский престол и все свои наследственные владения, ушел во Псков с княгиней и детьми своими и остался в Пскове»

**Используя отрывок, выберите в приведённом списке три верных суждения. Запишите в ответ цифры, под которыми они указаны.**

- 1) после подавления восстания в Твери тверские князья добровольно отказались от прав на великое Владимирское княжение в пользу Москвы
- 2) события, описанные в повести, произошли в первой половине XIV в.
- 3) следствием восстания в Твери стала передача ханом Золотой Орды ярлыка на великое Владимирское княжение тверскому князю
- 4) в карательном походе монголо-татар против Твери принимали участие войска Ивана Калиты
- 5) темник в войске ордынцев командовали отрядом в тысячу человек
- 6) Чол-хан (Шевкал, Щелкан) был баскаком ордынского хана Узбека на Руси

24. Напишите имя князя, погибшего в месте, обозначенном на схеме цифрой «3».




25. В каком веке происходили события, обозначенные на схеме? Ответ запишите словом.

26. Напишите название города, обозначенного на схеме цифрой «1».

27. Какие суждения, относящиеся к данной схеме, являются верными? Выберите три суждения из шести предложенных. Запишите в таблицу цифры, под которыми они указаны.

- 1) Князь, походы которого обозначены на схеме, планировал перенести столицу Древнерусского государства.
- 2) Последствием походов князя, обозначенных на схеме, стала раздробленность русских земель.
- 3) В ходе одного из походов, обозначенных на схеме, произошло первое столкновение русских и монгольских войск.
- 4) В городе, обозначенном на схеме цифрой «2», был заключён первый письменный договор Древнерусского государства.
- 5) В ходе одного из походов, обозначенных на схеме, князем и его дружиной был разгромлен Хазарский каганат.
- 6) Во время походов князя, которые обозначены на схеме, государством управляла его жена.

28. Рассмотрите изображение и выполните задание



Какие суждения о данном памятнике архитектуры являются верными? Выберите два суждения из пяти предложенных. Запишите в таблицу цифры, под которыми они указаны.

- 1) Церковь была построена в X в.
- 2) Это первая каменная постройка на Руси.
- 3) Церковь построена в стиле нарышкинского барокко.
- 4) Церковь относится к шедеврам владимиро-суздальской архитектуры.
- 5) Строительство этого храма относится к правлению Андрея Боголюбского.

29. Какой из нижеприведённых памятников архитектуры был построен в том же веке, что и изображённый выше? В ответе запишите цифру, под которой он указан.



30. Прочтите отрывок из исторического источника и кратко ответьте на вопросы С1-С3. Ответы предполагают использование информации из источника, а также применение исторических знаний по курсу истории соответствующего периода.

**Из труда современного историка.**

«Вокруг его имени вращаются почти все важные события русской истории конца XI - начала XII века... Он выделялся блестящими способностями государственного деятеля, умением противопоставить узким, корыстным интересам нужды своего государства... В период его правления была составлена древнейшая из известных летописей — "Повесть временных лет". Сам он написал "Почтение детям", которое показывает, что этот князь обладал литературным талантом. В этом произведении он отмечал, что со-вершил более восьмидесяти крупных походов против половцев, а мелких - и не упомнить. В более поздние времена появилась легенда о том, что византийский император - его родной дед - прислал ему знаки царского достоинства».

**С 1. О каком князе идет речь в документе? Когда и в результате какого события он занял киевский престол?**

**С 2. Привлекая знания по истории и текст документа, отметьте, в чём состояли главные заслуги князя. Приведите не менее трёх положений.**

**С 3. Какие черты князя выделяет автор? Укажите не менее трёх черт личности князя.**

**С 4. Многие города Древней Руси возникали на берегах рек. Объясните, в чём состояли преимущества такого расположения города (приведите три объяснения).**

**С 5. В исторической науке существуют дискуссионные проблемы, по которым высказываются различные, часто противоречивые точки зрения. Ниже приведена одна из спорных точек зрения, существующих в исторической науке на наличие государства в Древней Руси.**

*Древнюю Русь X—начала XII вв. можно назвать централизованным государством.*

Используя исторические знания, приведите два аргумента, которыми можно подтвердить данную точку зрения, и два аргумента, которыми можно опровергнуть её.

Ответ запишите в следующем виде.

*Аргументы в подтверждение:*

1)...

2)...

*Аргументы в опровержение:*

1)...

2)...

**С 6. Выберите из предложенных вариантов ОДНОГО исторического деятеля определённой эпохи и напишите его исторический портрет. Укажите время жизни исторического деятеля. Дайте краткую характеристику основных направлений (событий, достижений и т.п.) и результатов его деятельности.**

1) Ярослав Мудрый;

2) С. Ю. Витте;

3) Г. К. Жуков;

4) Карл Великий.

**1. С каким из названных событий связано имя князя Владимира Мономаха?**

- 1) с Любечским съездом князей
- 2) с дунайскими походами
- 3) с разгромом хазар
- 4) с разгромом печенегов

**2. С каким событием в истории Руси связано начало династии Рюриковичей?**

- 1) походом князя Олега на Киев
- 2) призыванием варягов
- 3) крещением Руси
- 4) изданием Русской Правды

**3. Согласно летописным свидетельствам Рюрик правил во второй половине IX в. в (во)**

- 1) Киеве
- 2) Новгороде
- 3) Владимире
- 4) Чернигове

**4. Какое из перечисленных событий относится к X в.?**

- 1) объединение Киева и Новгорода под властью князя Олега
- 2) подписание первого письменного договора Руси с Византией
- 3) начало составления Русской Правды
- 4) крестовый поход Руси против половцев

**5. Какое из перечисленных событий произошло раньше других?**

- 1) осада Пскова королём Стефаном Баторием
- 2) битва на реке Калке
- 3) первое упоминание в летописи о Москве
- 4) Невская битва

**6. Кто из князей Древнерусского государства сумел приостановить распад государства в начале XII в.?**

- 1) Ярослав Мудрый
- 2) Юрий Долгорукий
- 3) Владимир Мономах
- 4) Всеволод Большое Гнездо

**7. Какое из перечисленных событий произошло раньше других?**

- 1) первое упоминание в летописи о Москве
- 2) поход Тохтамыша на Москву
- 3) поход Батыя на Северо-Восточную Русь
- 4) стояние на реке Угре

**8. Современником Дмитрия Донского был**

- 1) Ярослав Мудрый
- 2) Сергей Радонежский
- 3) Иван Федоров
- 4) Феофан Прокопович

**9. С именами Юрия Даниловича, Ивана Калиты и тверских князей связана**

- 1) битва на реке Калка
- 2) борьба за ярлык на великое княжение
- 3) Ливонская война
- 4) Куликовская битва

**10. Титул «государь всея Руси» появился в**

- 1) XII в.
- 2) XIV в.
- 3) XV в.
- 4) XVII в.

**11. Что из названного относится к последствиям правления Владимира Мономаха?**



- 1) упорядоченная система налогообложения
- 2) ограничение законом имущественных прав смердов
- 3) принятие Русью христианства из Византии
- 4) обеспечение защиты границ Руси от набегов половцев

**12. Что явилось итогом похода войск Батыя на Русь в 1237—1238 гг.?**

- 1) включение Рязанского княжества в состав Золотой Орды
- 2) разорение Киева
- 3) разорение Великого Новгорода
- 4) разорение северо-восточных земель

**13. Что было итогом события, вошедшего в историю как «стояние на реке Угре» (1480 г.)?**

- 1) разорение ордынским войском Великого Новгорода
- 2) конец зависимости Руси от Орды
- 3) разорение ордынским войском Владимиро-Суздальского княжества
- 4) установление в русских землях системы баскачества

**14. Что из названного относится к результатам похода князя Ивана III на Великий Новгород в 1478 г.?**

- 1) предоставление новгородскому купечеству особых льгот
- 2) расширение полномочий новгородского веча
- 3) передача большей части Новгородских земель Великому княжеству Литовскому
- 4) получение московским князем в своё распоряжение больших земельных владений

**15. К памятникам архитектуры Владимиро-Суздальской земли относится**

- 1) Церковь Спаса на р. Нередице
- 2) собор Василия Блаженного
- 3) Церковь Покрова на Нерли
- 4) Церковь Фёдора Стратилата на Ручье

**16. Прочтите отрывок из произведения историка и определите, о каком русском князе идёт в нём речь:**

«Своей осторожной осмотрительной политикой он уберёт Русь от окончательного разорения ратями кочевников. Вооружённой борьбой, торговой политикой, избирательной дипломатией он избежал новых войн на Севере и на Западе, возможного, но губительного для Руси союза с папством и сближения курии и крестоносцев с Ордой. Он выиграл время, дав Руси окрепнуть и оправиться от страшного разорения. Он — родоначальник политики московских князей, политики возрождения России. ... Новгородский летописец, сообщив о кончине и похоронах князя, со сдержанной горечью сетует о человеке, «иже потрудися за Новгород, и за всю Русскую землю».

- 1) Александр Невский
- 2) Иван Калита
- 3) Дмитрий Донской
- 4) Даниил Галицкий

**17. Прочтите отрывок из сочинения историка Н. М. Карамзина и укажите исторического деятеля, к которому относится эта характеристика.**

«Иоанн, рождённый и воспитанный данником степной Орды, сделался одним из знаменитейших государей в Европе; ... без учения, без наставлений, руководствуемый только природным умом... силою и хитростью восстанавливая свободу и целостность России, губя царство Батыево, тесня Литву, сокрушая вольность новгородскую, захватывая уделы, расширяя владения московские...»

- 1) Иван III
- 2) Иван IV
- 3) Иван Калита
- 4) Иван Красный

**18. Какие три из перечисленных черт характеризовали зависимость русских земель от Орды? Соответствующие цифры запишите в ответ.**

- 1) перепись населения
- 2) создание Земских соборов
- 3) система баскачества

- 4) система местничества
- 5) получение ярлыка на великое княжение
- 6) отмена кормлений

**19. Установите соответствие между именами князей и событиями, связанными с их деятельностью.**

ИМЕНА

- А) Владимир Мономах
- Б) Владимир Святославич
- В) Олег Вещий
- Г) Игорь Старый

ПРОЗВАНИЯ

- 1) разгром половцев
- 2) объединение Киева и Новгорода
- 3) восстание древлян
- 4) крещение Руси
- 5) разгром печенегов

Запишите в ответ цифры, расположив их в порядке, соответствующем буквам:

А      Б      В      Г

**20. Ниже приведён перечень терминов. Все они, за исключением одного, относятся к событиям, явлениям, происходившим во второй половине XII-XV в.**

- 1) Дворяне
- 2) стрельцы
- 3) поместье
- 4) пожилое
- 5) ордынский выход
- 6) местничество

Найдите и запишите порядковый номер термина, относящегося к другому историческому периоду.

**21. Напишите пропущенное понятие (термин).**

Часть древнерусского города, где жили торговцы и ремесленники, называлась

**22. Заполните пустые ячейки таблицы, используя представленные в приведённом ниже списке данные. Для каждой ячейки, обозначенной буквами, выберите номер нужного элемента.**

Правитель	Время правления	События
Иван III	_____ (А)	_____ (Б)
_____ (В)	1359-1389 гг.	битва на реке Вожа
Василий II	_____ (Г)	_____ (Д)
_____ (Е)	1325-1340 гг.	передача московскому князю права сбора дани с русских земель

Пропущенные элементы:

- 1) Василий III
- 2) Иван Калита
- 3) Дмитрий Донской
- 4) 1425-1462 гг.
- 5) 1462-1505 гг.
- 6) 1505-1533 гг.
- 7) разорение Москвы ханом Тохтамышем
- 8) введение ограничений на переход крестьян

9) междоусобица в Московском княжестве

Запишите в ответ цифры, расположив их в порядке, соответствующем буквам:

А Б В Г Д Е

Запишите в ответ цифры, расположив их в порядке, соответствующем буквам:

А Б В Г Д Е

**23. Прочтите отрывок из «Повести о разорении Рязани Батыем»**

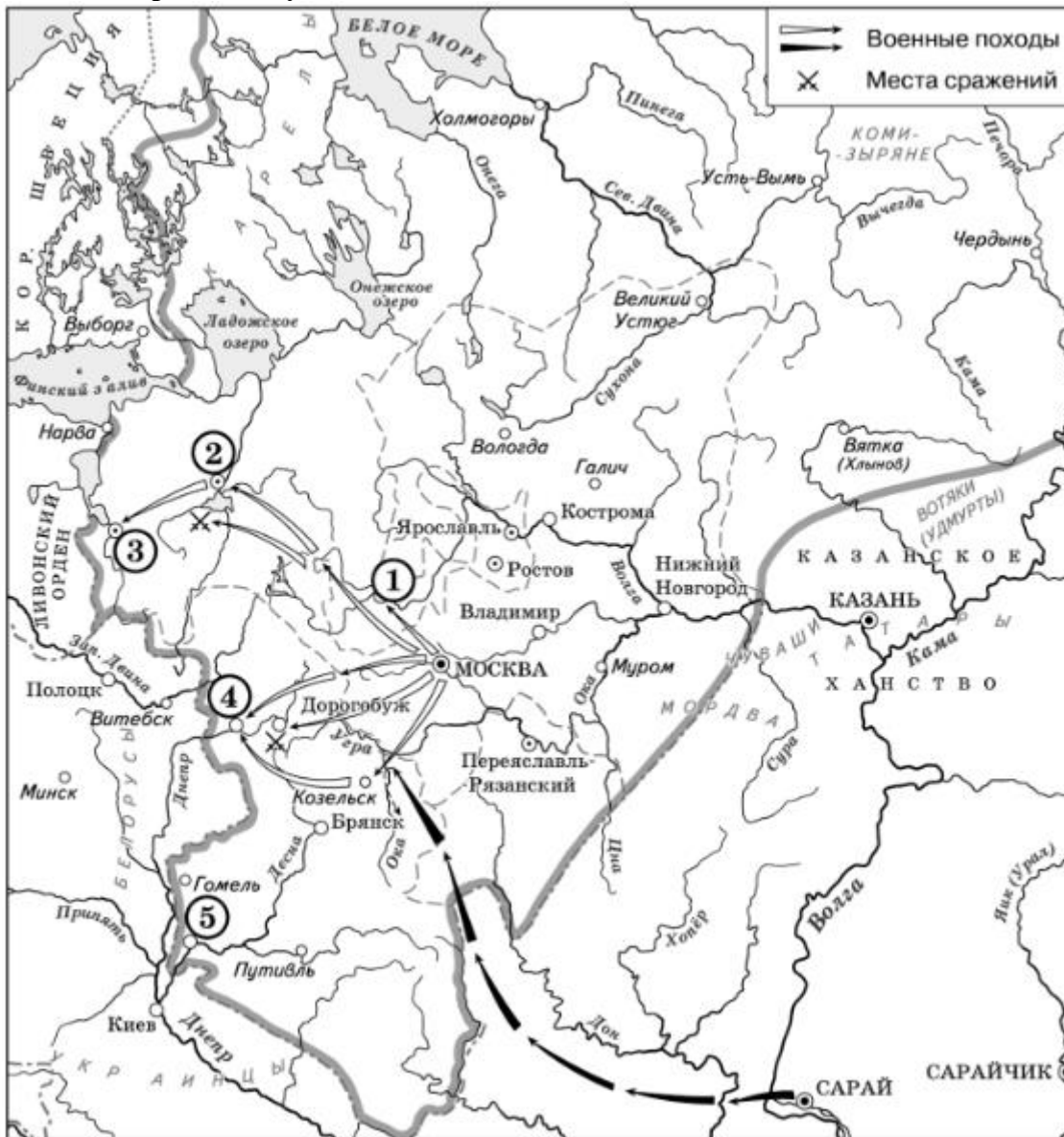
«В год 6745 (от Сотворения Мира)...<...> Пришел на Русскую землю безбожный царь Батый со множеством воинов татарских и стал на реке на Воронеже близ земли Рязанской. И прислал послов непутовых на Рязань к великому князю Юрию Ингваревичу (Игоревичу) Рязанскому, требуя у него десятой доли во всем: во князьях, и во всяких людях, и в остальном. И услышал великий князь Юрий Ингваревич Рязанский о нашествии безбожного царя Батыя, и тотчас послал в город Владимир к благоверному великому князю Георгию Всеволодовичу Владимирскому, прося у него помощи против безбожного царя Батыя или чтобы сам на него пошел. Князь великий Георгий Всеволодович Владимирский и сам не пошел, и помощи не послал, задумав один сразиться с Батыем. И услышал великий князь Юрий Ингваревич Рязанский, что нет ему помощи от великого князя Георгия Всеволодовича Владимирского, и тотчас послал за братьями своими: за князем Давидом Ингваревичем Муромским, и за князем Глебом Ингваревичем Коломенским, и за князем Олегом Красным, и за Всеволодом Пронским, и за другими князьями. И стали совет держать, как утолить нечестивца дарами. И послал сына своего князя Федора Юрьевича Рязанского к безбожному царю Батыю с дарами и мольбами великими, чтобы не ходил войной на Рязанскую землю. И пришел князь Федор Юрьевич на реку на Воронеж к царю Батыю, и принес ему дары, и молил царя, чтоб не воевал Рязанской земли. Безбожный же, лживый и немилосердный царь Батый дары принял и во лжи своей притворно обещал не ходить войной на Рязанскую землю. Но хвалился-грозился повоевать всю Русскую землю. И стал просить у князей рязанских дочерей и сестер к себе на ложе. И некто из вельмож рязанских по зависти донес безбожному царю Батыю, что есть у князя Федора Юрьевича Рязанского княгиня из царского рода и что всех прекраснее она красотой телесною. Царь Батый лукав был и немилостив в неверии своем, распалился в похоти своей и сказал князю Федору Юрьевичу: «Дай мне, княже, изведать красоту жены твоей». Благоверный же князь Федор Юрьевич Рязанский посмеялся и ответил царю: «Не годится нам, христианам, водить к тебе, нечестивому царю, жен своих на блуд. Когда нас одолеешь, тогда и женами нашими владеть будешь». Безбожный царь Батый разъярился и оскорбился и тотчас повелел убить благоверного князя Федора Юрьевича, а тело его велся бросить на растерзание зверям и птицам, и других князей и воинов лучших поубивал...».

**Используя отрывок, выберите в приведённом списке три верных суждения. Запишите в ответ цифры, под которыми они указаны.**

- 1) вторжение на Русь войск Батыя началось зимой 1237 г.
- 2) вскоре после гибели Рязани удару войск Батыя подверглись города Владимиро-Суздальского княжества
- 3) после разгрома Рязани на войско монголо-татар было совершено нападение дружины рязанского боярина Евпатия Коловрата
- 4) двигаясь через Черниговское княжество, отряд монголо-татар с ходу захватил и разграбил Козельск
- 5) автор повести не противопоставляет возвышенный христианский дух рязанского князя «плотским» помыслам завоевателя-мусульманина

б) защитники Новгорода сумели выдержать штурм города войска Батыя

**24. Рассмотрите схему и выполните задания**



Назовите князя, в годы правления которого в состав единого Русского государства вошли города, обозначенные на схеме цифрами «1» и «2».

**25. Укажите век, когда в состав единого Русского государства вошли города, обозначенные на схеме цифрами «3», «4» и «5» (ответ напишите словом).**

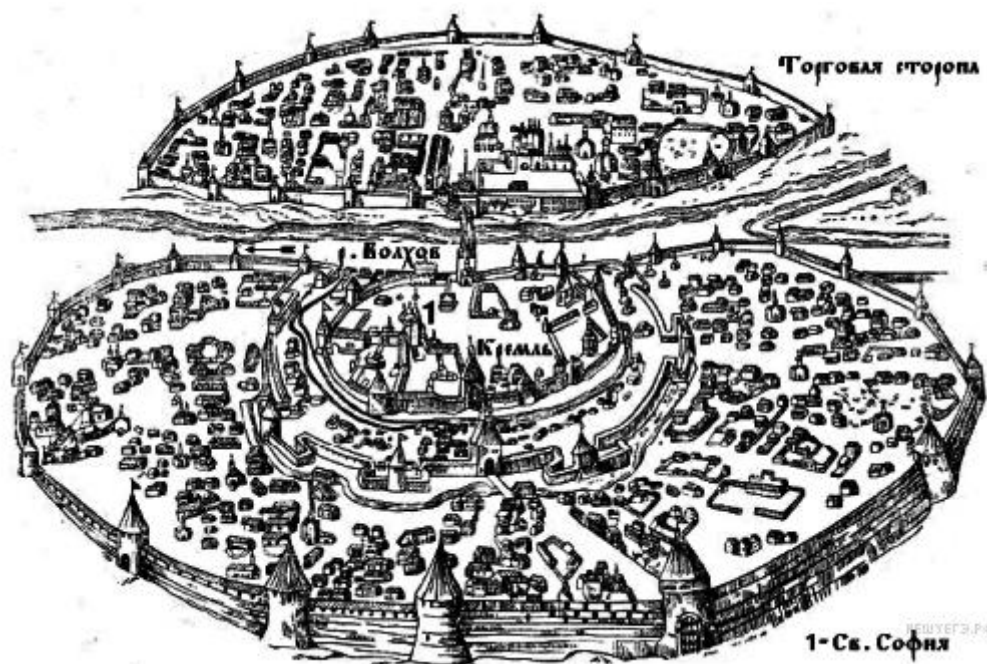
**26. Назовите князя, при котором Русское государство достигло границ, обозначенных на схеме жирной чертой.**

**27. Какие суждения, относящиеся к данной схеме, являются верными? Выберите три суждения из шести предложенных. Запишите в таблицу цифры, под которыми они указаны.**

- 1) В городах, обозначенных цифрами «2» и «3», до вхождения в состав единого Русского государства существовала республиканская форма правления.
- 2) Следствием провала похода, обозначенного чёрными стрелками, стало освобождение Русского государства от ордынского ига.
- 3) Город, обозначенный цифрой «1», вошёл в состав единого Русского государства в 1478 г.
- 4) Ордынское войско в походе, обозначенном чёрными стрелками, возглавлял Мамай.
- 5) Город, обозначенный цифрой «2», вошёл в состав единого Русского государства в 1485 г.

б) Города, обозначенные цифрами «4» и «5», были отвоёваны Русским государством у Великого княжества Литовского.

**28. Рассмотрите изображение и выполните задание**




Какие суждения о городе, старинный план которого Вы видите, являются верными? Выберите два суждения из пяти предложенных. Запишите в таблицу цифры, под которыми они указаны.

- 1) В отличие от других русских земель в этом городе редко созывалось народное вече.
- 2) В период политической раздробленности русских земель в этом городе установилась сильная княжеская власть.
- 3) С 1113 по 1125 г. в городе правил князь Владимир Мономах.
- 4) Через этот город в древности проходил торговый путь «из варяг в греки».
- 5) Город, изображённый на плане, был присоединён к Московскому государству в 1478 г.

**29. Рассмотрите изображение и выполните задание**

Какой из представленных ниже памятников находится в этом городе? В ответе запишите цифру, под которой он указан.



Прочтите отрывок из исторического документа и кратко ответьте на вопросы С1-С3. Ответы предполагают использование информации из источника, а также применение исторических знаний по курсу истории соответствующего периода.

**С 1 . Как назывался период в истории России, о котором идёт речь в документе? Укажите его хронологические рамки.**

**Из сочинения историка В.О. Ключевского**

«С половины XII в. становятся заметны признаки запустения Киевской Руси. Речная полоса по среднему Днестру с притоками, издавна так хорошо заселённая, с этого времени пустеет, население ее исчезает куда-то. <...> В числе семи запустелых городов Черниговской земли мы встречаем один из самых старинных и богатых городов Поднепровья - Любеч. Одновременно с признаками отлива населения из Киевской Руси замечаем и следы упадка её экономического благосостояния: Русь, пустея, вместе с тем и беднела. <...> Отлив населения из Поднепровья шёл в двух направлениях, двумя противоположными струями. Одна струя направлялась на запад, на Западный Буг, в область верхнего Днестра и верхней Вислы, в глубь Галиции и Польши. Так южнорусское население из Поднепровья возвращалось на давно забытые места, покинутые его предками. Другая струя колонизации из Приднепровья направляется в противоположный угол Русской земли, на северо-восток, за реку Угру, в междуречье Оки и Верхней Волги. <... > Она - источник всех основных явлений, обнаружившихся в жизни верхневолжской Руси с половины XII в.; из последствий этой колонизации сложился весь политический и общественный быт этой Руси».

**С 2 . О каких явлениях, характерных для данного периода, свидетельствует документ? Назовите не менее двух явлений. Используя текст документа и знания по истории, укажите причины этих явлений (не менее двух причин).**

**С 3 . Как оценивает историк последствия отмеченных в документе явлений? Назовите не менее двух последствий усиления верхневолжской Руси в дальнейшей российской истории.**

**С 4 .** Дискуссия о роли варягов в российской истории и их национальной принадлежности, спор между норманнистами и антинорманнистами начались ещё в середине XVIII в. и продолжаются до сих пор.

**Объясните, чем различались взгляды сторонников и противников норманнской теории (приведите три объяснения).**

**С 5 .** В исторической науке существуют дискуссионные проблемы, по которым высказываются различные, часто противоречивые, точки зрения. Ниже приведена одна из спорных точек зрения, существующих в исторической науке на причины возвышения Москвы в XIV в.:

*Историк С. М. Соловьев полагал, что главным фактором было выгодное географическое положение Москвы.*

Используя исторические знания, приведите два аргумента, которыми можно подтвердить данную точку зрения, и два аргумента, которыми можно опровергнуть её.

Ответ запишите в следующем виде.

*Аргументы в подтверждение:*

1) ...

2) ...

*Аргументы в опровержение:*

1) ...

2) ...

**С 6 .** Выберите из предложенных вариантов **ОДНОГО** исторического деятеля определённой эпохи и напишите его исторический портрет. Укажите время жизни исторического деятеля. Дайте краткую характеристику основных направлений (событий, достижений и т.п.) и результатов его деятельности.

1) княгиня Ольга;

2) Александр III;

3) Н. С. Хрущёв;

4) Елизавета Тюдор.